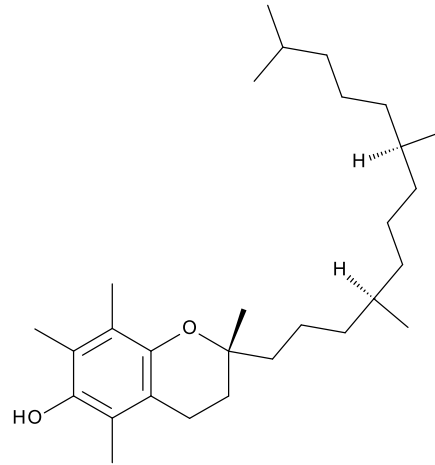
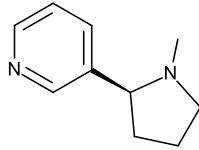



1. Írja fel a képletét illetve nevezze el a következő vegyületeket!

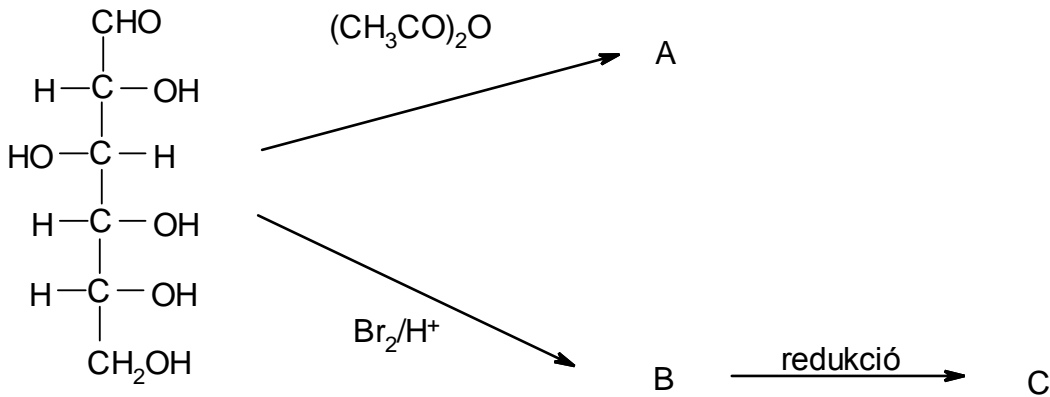
(6p)



L-szorbóz, tritil-csoport, hisztidin

2. Fejezze be!

(6p)



3. Miért határozható meg UV elnyelés alapján bizonyos fehérjék koncentrációja? Mely fehérjék ezek?

(3p)

4. Definiálja:

(6p)

acil-gliceridek
 izoelektromos pont
 5α -szteroid

5. Mit jelent: $\text{PGF}_{1\alpha}$?

(3p)

6. Mi történik?

(6p)

