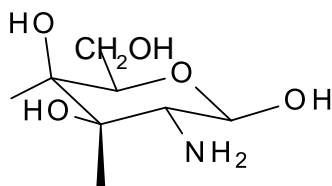
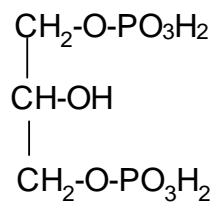


1. Írja fel a képletét illetve nevezze el a következő vegyületeket! (5p)



triptofán, adenin, K-vitamin

2. Mit jelent a következő rövidítés: PGE<sub>2</sub> (2p)

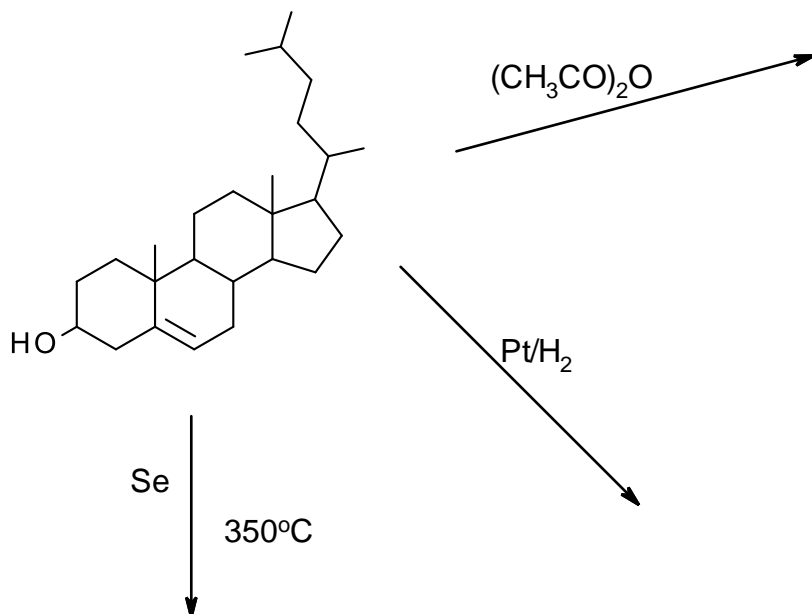
3. Definiálja: (6p)

N-glikozidos kötés

C<sub>3</sub>-endo

izoprén szabály

4. Fejezze be! (6p)



5. Miért izolálhatók viszonylag könnyen az aminosavak? (2p)

6. Amint kihűl a frissen forrázott tealevélből készült tea, a felszínen vékony hártya jelenik meg. Mi ez? Mivel magyarázza a megjelenését? (2+2p)