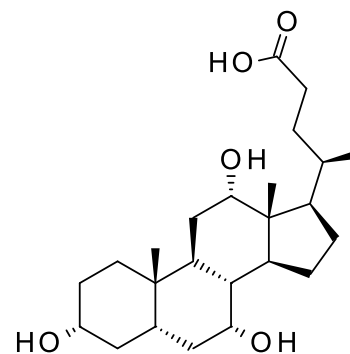
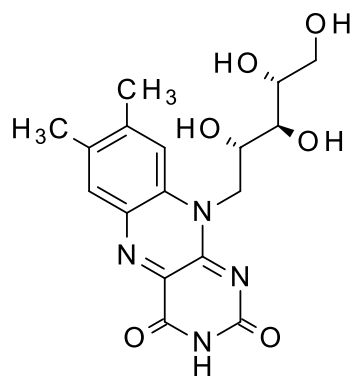
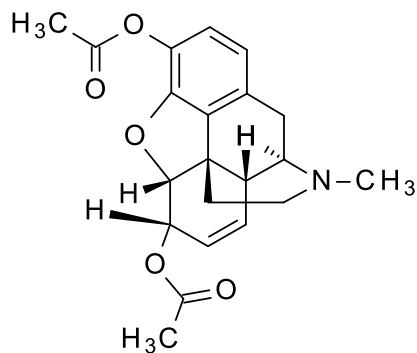


1. Írja fel a képletét illetve nevezze el a következő vegyületeket!

(6p)



guanin, prolin, szacharóz

2. Jelölje meg a szacharóz képletén a glikozidos és a D pozícióban lévő OH-csoportok helyét!

(4p)

3. Hogyan állítaná elő a Val-Gly-Ala tripeptidet?

(5p)

4. Definiálja, mik a lipidek! Hogyan csoportosítaná a lipideket, mi a funkciójuk?

(6p)

5. Fejezze be!

(6p)

